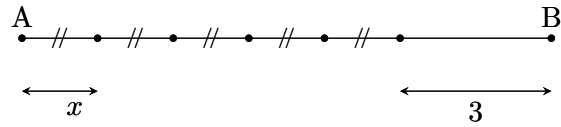


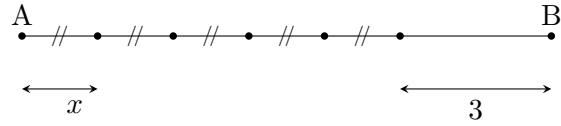
Premier exemple : Écrire la longueur du segment $[AB]$ en fonction de x .

On considère le dessin suivant :



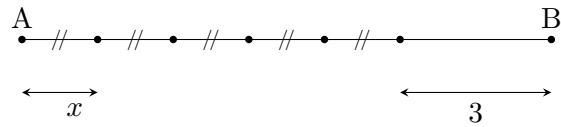
Premier exemple : Écrire la longueur du segment $[AB]$ en fonction de x .

On considère le dessin suivant :



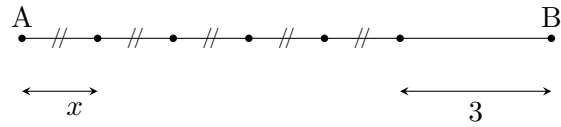
Premier exemple : Écrire la longueur du segment $[AB]$ en fonction de x .

On considère le dessin suivant :



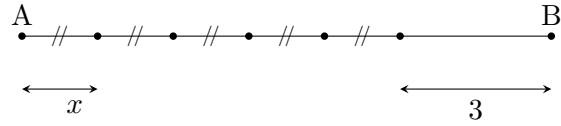
Premier exemple : Écrire la longueur du segment $[AB]$ en fonction de x .

On considère le dessin suivant :



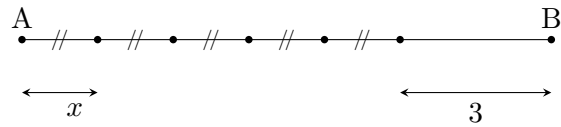
Premier exemple : Écrire la longueur du segment $[AB]$ en fonction de x .

On considère le dessin suivant :

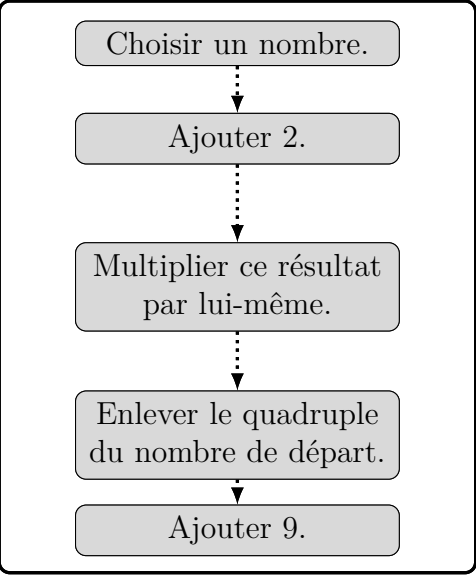


Premier exemple : Écrire la longueur du segment $[AB]$ en fonction de x .

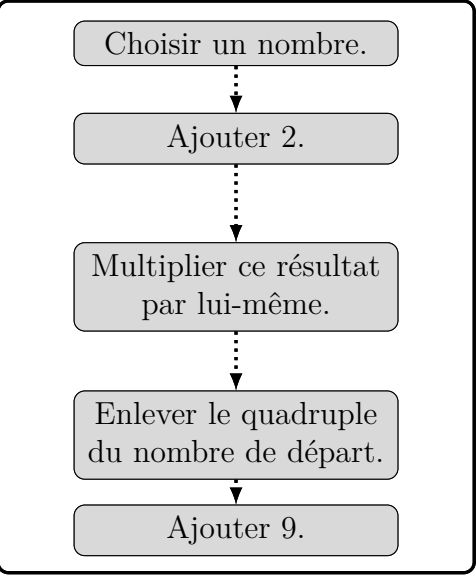
On considère le dessin suivant :



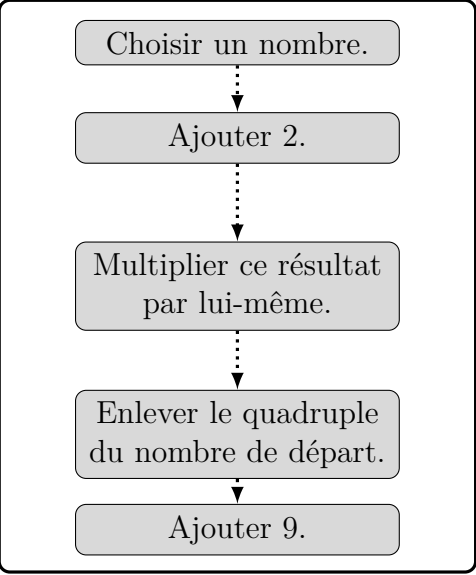
Deuxième exemple : Programme de calcul



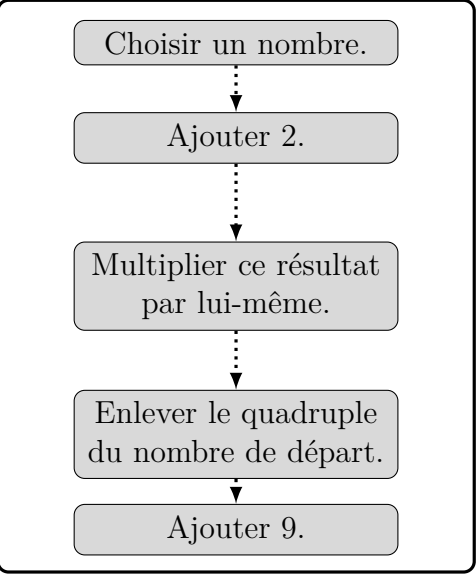
Deuxième exemple : Programme de calcul



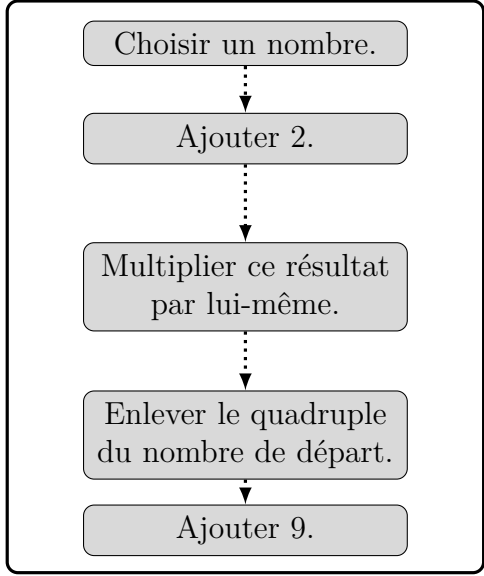
Deuxième exemple : Programme de calcul



Deuxième exemple : Programme de calcul



Deuxième exemple : Programme de calcul



Deuxième exemple : Programme de calcul

